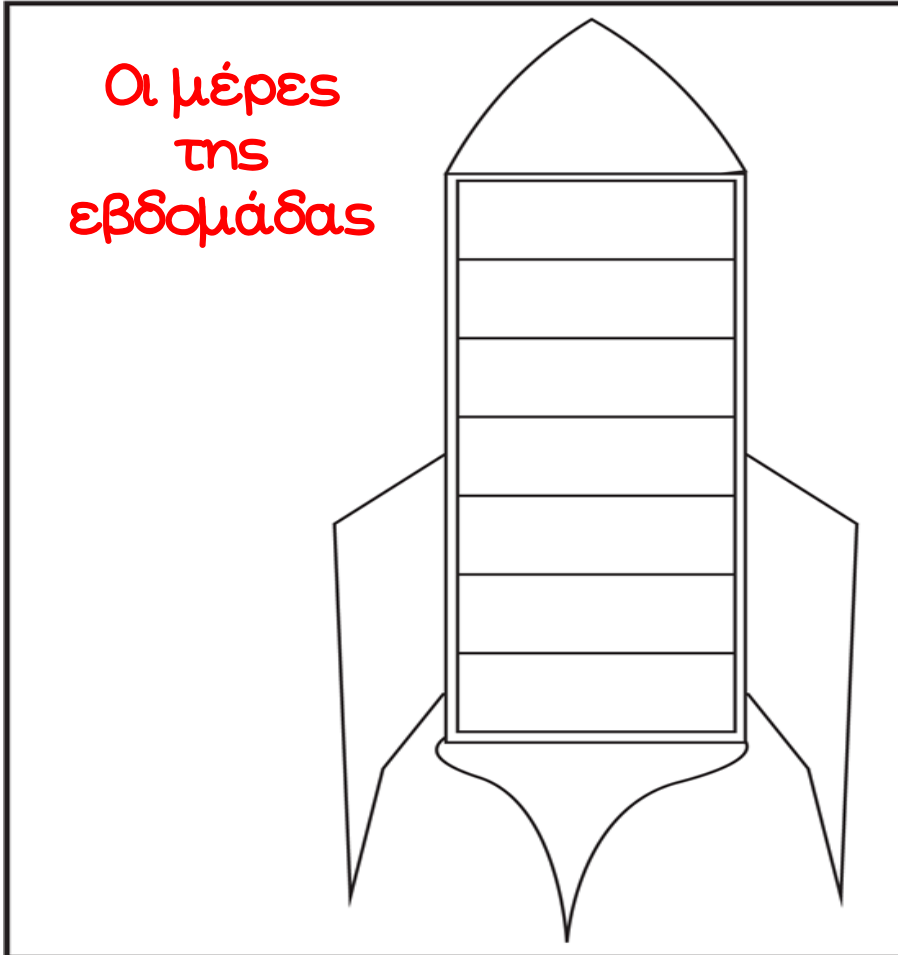




ΟΝΟΜΑ: \_\_\_\_\_

**ΜΑΘΗΜΑΤΙΚΑ 5<sup>η</sup> ΕΝΟΤΗΤΑ**  
**Κεφ. 32 Μετρώ το χρόνο που πέρασε**

1. Γράφω με τη σειρά τις μέρες της εβδομάδας.



2. Γράφω με τη σειρά τους μήνες του χρόνου.



3. Γράφω κάτω από κάθε εικόνα μια από τις τέσσερις εποχές του χρόνου.



4. Απαντώ με έναν αριθμό στις παρακάτω ερωτήσεις.

Πόσες ημέρες έχει η εβδομάδα; \_\_\_\_\_

Πόσες ημέρες έχει ο μήνας; \_\_\_\_\_ ή \_\_\_\_\_ ή \_\_\_\_\_

Πόσες ώρες έχει η ημέρα; \_\_\_\_\_

Πόσους μήνες έχει ο χρόνος; \_\_\_\_\_

5. Η Αγγελική αγαπάει τα λουλούδια. Μπορείς να βάλεις τις εικόνες στην σωστή χρονική σειρά για να φτιάξεις μια ιστορία;

Γράφω  
1, 2, 3, 4  
στα  
κουτάκια.

