

ΟΝΟΜΑ: _____

ΜΑΘΗΜΑΤΙΚΑ 5^η ΕΝΟΤΗΤΑ

Επαναληπτικές Ασκήσεις 5 (Κεφ. 29-33)

1. Γράφω με τη σειρά τις μέρες της εβδομάδας.

_____, _____, _____, _____,
_____, _____, _____

2. Γράφω με τη σειρά τους μήνες του χρόνου.

1. Ιανουάριος	2. _____	3. _____
4. _____	5. _____	6. _____
7. _____	8. _____	9. _____
10. _____	11. _____	12. _____



3. Γράφω τις τέσσερις εποχές του χρόνου.


<input type="text"/>		<input type="text"/>
<input type="text"/>	 	<input type="text"/>

4. Απαντώ με έναν αριθμό στις παρακάτω ερωτήσεις.

- ♥ Κάθε εποχή έχει _____ μήνες.
- ♥ Ο χρόνος έχει _____ μήνες.
- ♥ Η εβδομάδα έχει _____ μέρες.
- ♥ Η μέρα έχει _____ ώρες.
- ♥ Ο Φεβρουάριος έχει _____ ή _____ μέρες.
- ♥ Ο Μάρτιος έχει _____ μέρες.
- ♥ Ο Απρίλιος έχει _____ μέρες.



5. Υπολογίζω με πόσα τετραγωνάκια  και πόσα τριγωνάκια  μπορώ να καλύψω την παρακάτω επιφάνεια;



ΥΠΟΛΟΓΙΖΩ

Απάντηση: _____

6. Κάνω τις παρακάτω διαιρέσεις όπως το παράδειγμα.

$12 : 3 =$ *γιατί* $3 \times 4 = 12$

$30 : 5 =$ *γιατί* _____

$56 : 8 =$ *γιατί* _____

$60 : 6 =$ *γιατί* _____

$81 : 9 =$ *γιατί* _____

$40 : 5 =$ *γιατί* _____



7. Η γιαγιά φτιάχνει 16 κεφτεδάκια. Θέλει να τα μοιράσει στα 4 εγγόνια της. Πόσα κεφτεδάκια θα πάρει το κάθε παιδί;

Ζωγραφίζω:

Υπολογίζω με διαίρεση:

Απάντηση: _____